

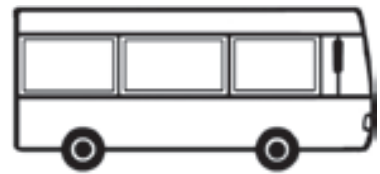


blau



**Erkläre, wie du die Zeitspanne bestimmst!**

Greta fährt zu ihrer Oma. Der Bus fährt um 15.12 Uhr ab und kommt um 15.58 Uhr an.  
Wie lange ist Greta unterwegs?



gelb



**Erkläre, wie du die Zeitspanne bestimmst!**

Hendrik besucht Verwandte in Berlin.  
Der Zug fährt um 14.12 Uhr ab und kommt um 18.01 Uhr an.  
Wie lange ist Hendrik unterwegs?





rot



### Erkläre, wie du die Zeitspanne bestimmst!

Moritz fährt mit dem Nachtzug nach Rom.  
 Er fährt abends um 21.35 Uhr los und  
 kommt um 7.13 Uhr an.  
 Wie lange ist Moritz unterwegs?



### Erkläre, wie du die Zeitspanne bestimmst!

blau

 **Tipp 1**


Vergeht mehr Zeit als eine Stunde?

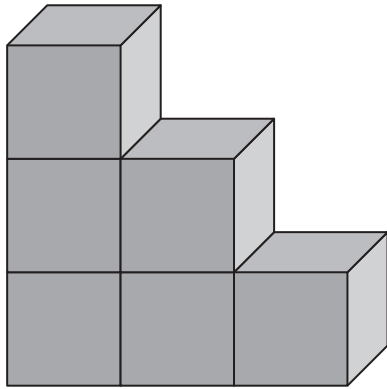
 **Tipp 2**

Wie viel Zeit vergeht bis 15.30 Uhr?  
 Wie viel Zeit vergeht dann noch bis 15.58 Uhr?

 **Tipp 3**

Erkläre mithilfe eines Pfeilbildes.



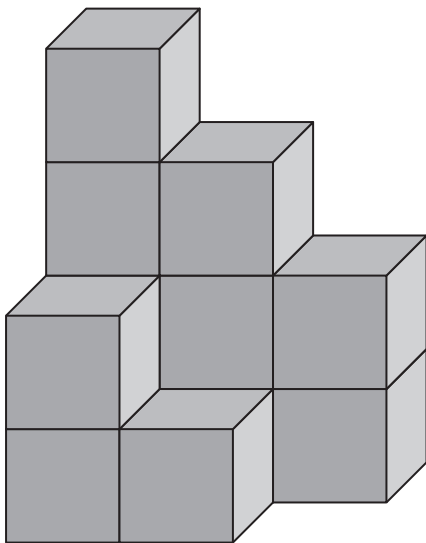


3	2	1



**Sätze, die du benutzen kannst:**

- ▶ Der Bauplan zeigt den **Grundriss** des Würfelgebäudes.
- ▶ In jedem Quadrat zeigt die Zahl, wie viele Würfel aufeinandergebaut sind.
- ▶ Bei diesem Würfelgebäude sind **links** 3 Würfel **aufeinandergebaut**. Man spricht von einem **Dreierturm**.  
**In der Mitte** sind 2 Würfel übereinandergebaut. Man spricht von einem **Zweierturm**.  
**Rechts** besteht der Turm aus nur einem Würfel. Man spricht von einem **Einerturm**.



4	3	2
2	1	



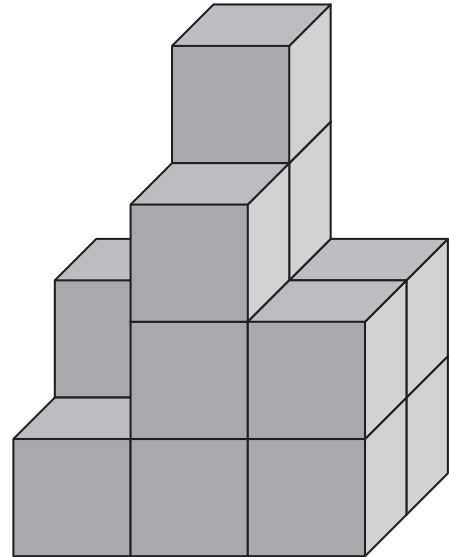
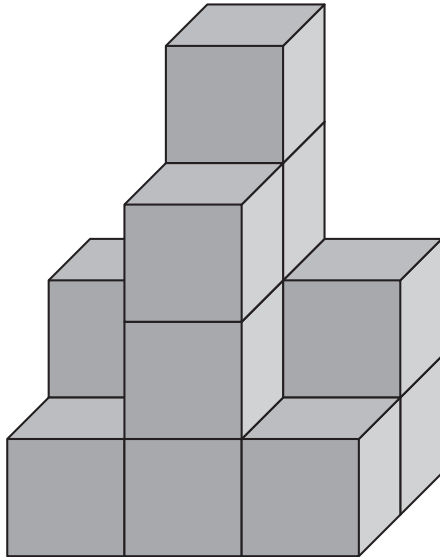
**Sätze, die du benutzen kannst:**

- ▶ In **der ersten Reihe** des Gebäudes steht links ein Zweierturm und rechts daneben ein Einerturm.
- ▶ In **der zweiten Reihe** des Gebäudes steht links ein Viererturm, in der Mitte ein Dreierturm und rechts ein Zweierturm.
- ▶ **Hinter** dem Einerturm steht ein Dreierturm.
- ▶ **Vor** dem Viererturm steht ein Zweierturm.
- ▶ Auf dem Bauplan steht die 3 in dem Quadrat **über** der 1.
- ▶ Die 2 steht in dem Quadrat **unter** der 4.

Welche Beschreibung gehört zu welchem Gebäude?



Verbinde richtig.



In der **zweiten Reihe** des Gebäudes steht links ein Zweierturm, in der Mitte ein Viererturm und rechts ein Zweierturm.

In der **ersten Reihe** des Gebäudes steht links ein Einerturm und in der Mitte ein Dreierturm. Rechts steht ein Zweierturm.

In der **ersten Reihe** des Gebäudes steht links ein Einerturm und in der Mitte ein Dreierturm. Rechts steht ein Einerturm.

In der **zweiten Reihe** des Gebäudes steht links ein Zweierturm, in der Mitte ein Viererturm und rechts ein Zweierturm.

Erkläre, wie du den Bauplan zu einem Gebäude erstellst!



