



Schnell-Diagnostetest: Mathematik (Klasse 5)

8. Führe die folgenden Zahlenreihen sinnvoll weiter.

17	19	21						
----	----	----	--	--	--	--	--	--

85	90	95						
----	----	----	--	--	--	--	--	--

135	150	165						
-----	-----	-----	--	--	--	--	--	--

318	315	312						
-----	-----	-----	--	--	--	--	--	--

275	260	245						
-----	-----	-----	--	--	--	--	--	--

995	970	945						
-----	-----	-----	--	--	--	--	--	--

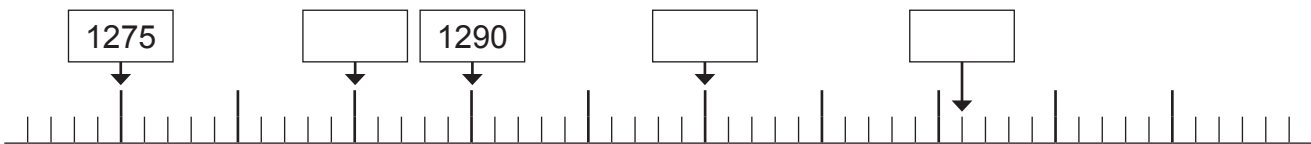
vorwärts

3	2	1-0

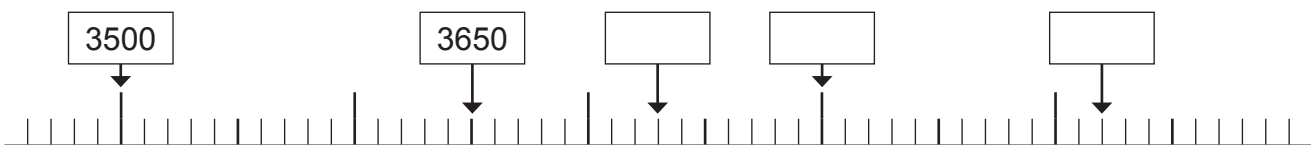
rückwärts

3	2	1-0

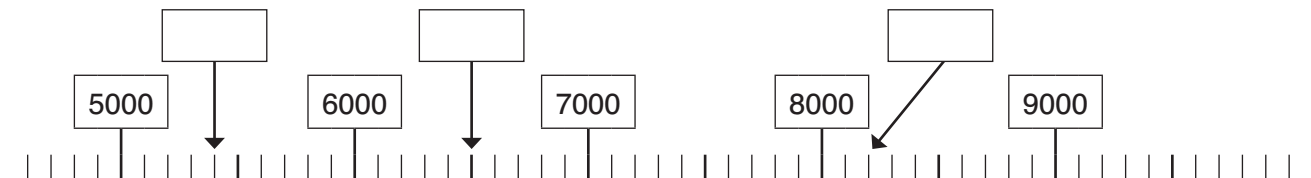
9. a) Trage in den Zahlenstrahl die fehlenden Zahlen richtig ein.



b) Trage in den Zahlenstrahl die fehlenden Zahlen richtig ein.



c) Trage in den Zahlenstrahl die fehlenden Zahlen richtig ein.



9-8	7-4	3-0



18. Wandle die folgenden Größen um.

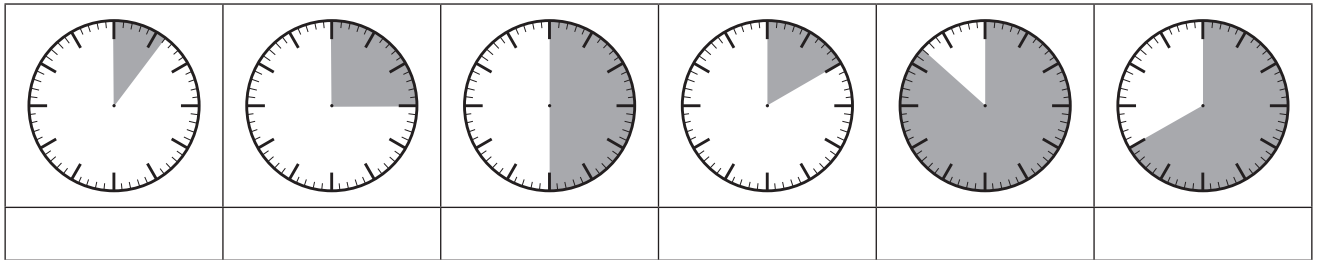
6451 mm = _____ cm _____ mm 400750 m = _____ km _____ m

7005 ct = _____ € _____ ct 690 kg = _____ t _____ kg

45930 g = _____ kg _____ g 9860 cm = _____ m _____ cm


6-5	4-3	2-0

19. Wie viele Minuten sind hier dunkel eingefärbt?



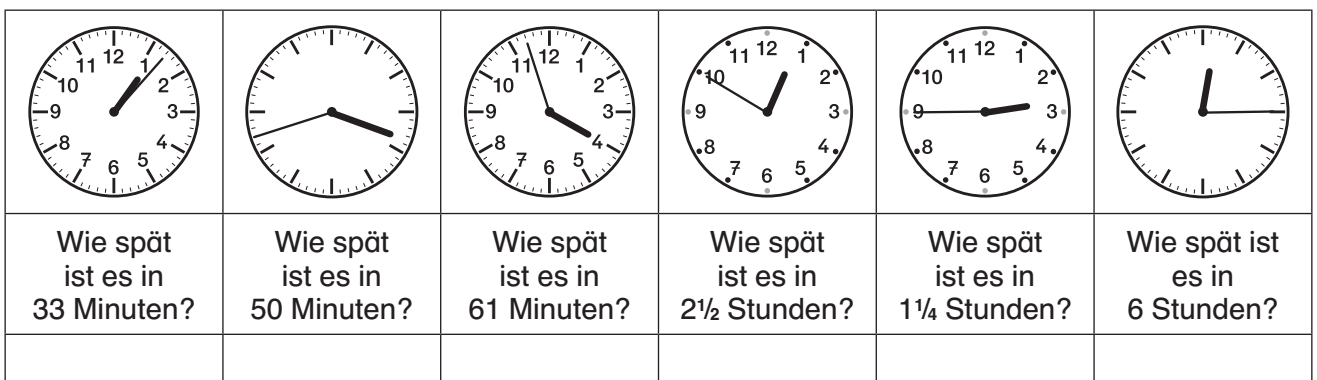
6-5	4-3	2-0

20. Wie viel Uhr ist es jetzt? Trage eine Uhrzeit ein.



6-5	4-3	2-0

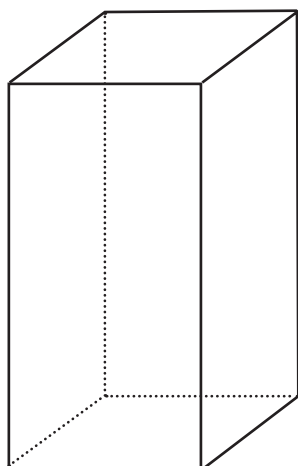
21. Wie viel Uhr ist es in ... Minuten/Stunden?

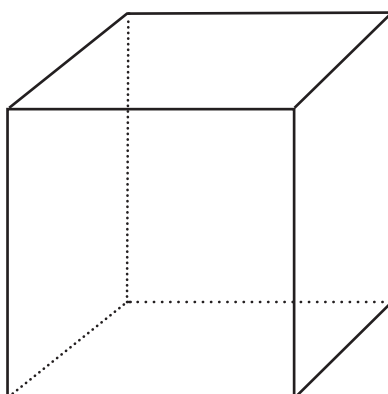


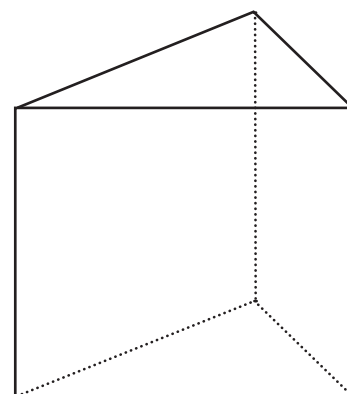
6-5	4-3	2-0

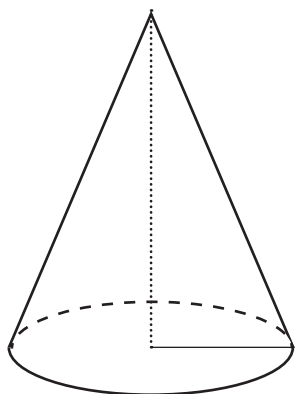


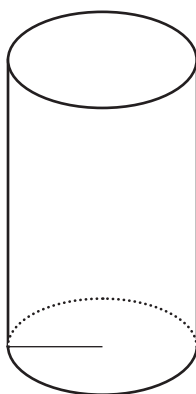
b) Wie heißen die folgenden Körper?

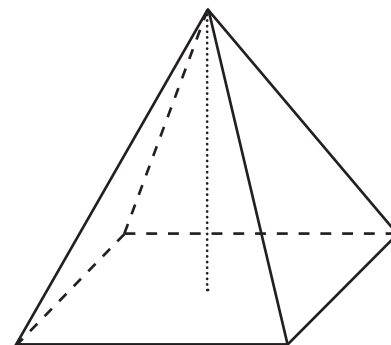








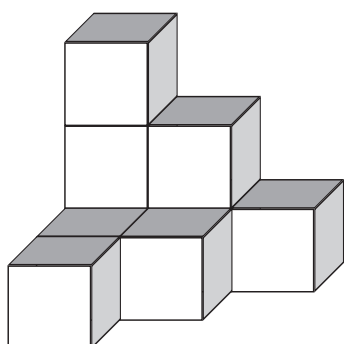


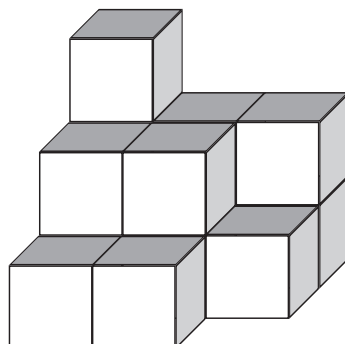


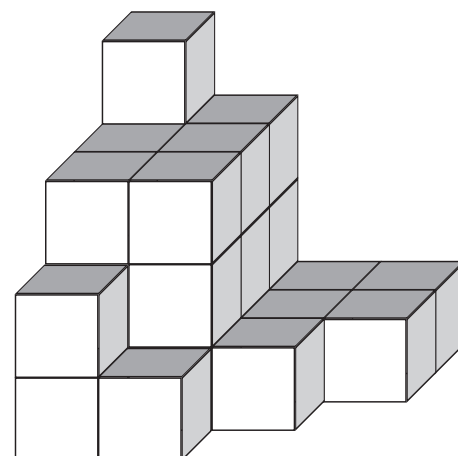
6-5	4-3	2-0

3	2	1-0

44. Aus wie vielen Würfeln bestehen diese Würfelhaufen?
Schreibe deine Lösungen dazu.









Auswertungsbogen Mathematik (Klasse 6)

Schnell-Diagnostetest: Mathematik (Klasse 6) – Auswertungsbogen

Name: Klasse: 6

Schule: Ort:

Testdatum: Testleiter/in:

Überprüfte Leistungen in folgenden Bereichen:		Anzahl der gelösten Aufgaben			Beobachtungen / Anmerkungen
		beherrscht die Materie	leichte Unsicherheiten	nicht gefestigt bzw. unbekannt	
Nr. 1	Zahlendiktat – 87, 654, 4067, 15028, 98742, 106704	6–5	4–3	2–0	
Nr. 2	Zahlen vorlesen	6–5	4–3	2–0	
Nr. 3	Zahlenreihen mündlich vorwärts	3	2	1–0	
	und rückwärts weiterführen	3	2	1–0	
Nr. 4	Vorgänger	6–5	4–3	2–0	
	Nachfolger	6–5	4–3	2–0	
Nr. 5	Runden auf volle Zehner	4	3–2	1–0	
	Runden auf volle Hunderter	4	3–2	1–0	
	Runden auf volle Tausender	4	3–2	1–0	