




DOWNLOAD

Michael Körner

Vertretungsstunde Geschichte 4

5./6. Klasse: Ausbreitung des Menschen

Downloadauszug
aus dem Originaltitel:



Das Werk als Ganzes sowie in seinen Teilen unterliegt dem deutschen Urheberrecht. Der Erwerber des Werkes ist berechtigt, das Werk als Ganzes oder in seinen Teilen für den eigenen Gebrauch und den **Einsatz im eigenen Unterricht** zu nutzen. Die Nutzung ist nur für den genannten Zweck gestattet, **nicht jedoch für** einen schulweiten Einsatz und Gebrauch, für die Weiterleitung an Dritte (einschließlich aber nicht beschränkt auf Kollegen), für die Veröffentlichung im Internet oder in (Schul-)Intranets oder einen weiteren kommerziellen Gebrauch.

Eine über den genannten Zweck hinausgehende Nutzung bedarf in jedem Fall der vorherigen schriftlichen Zustimmung des Verlages.

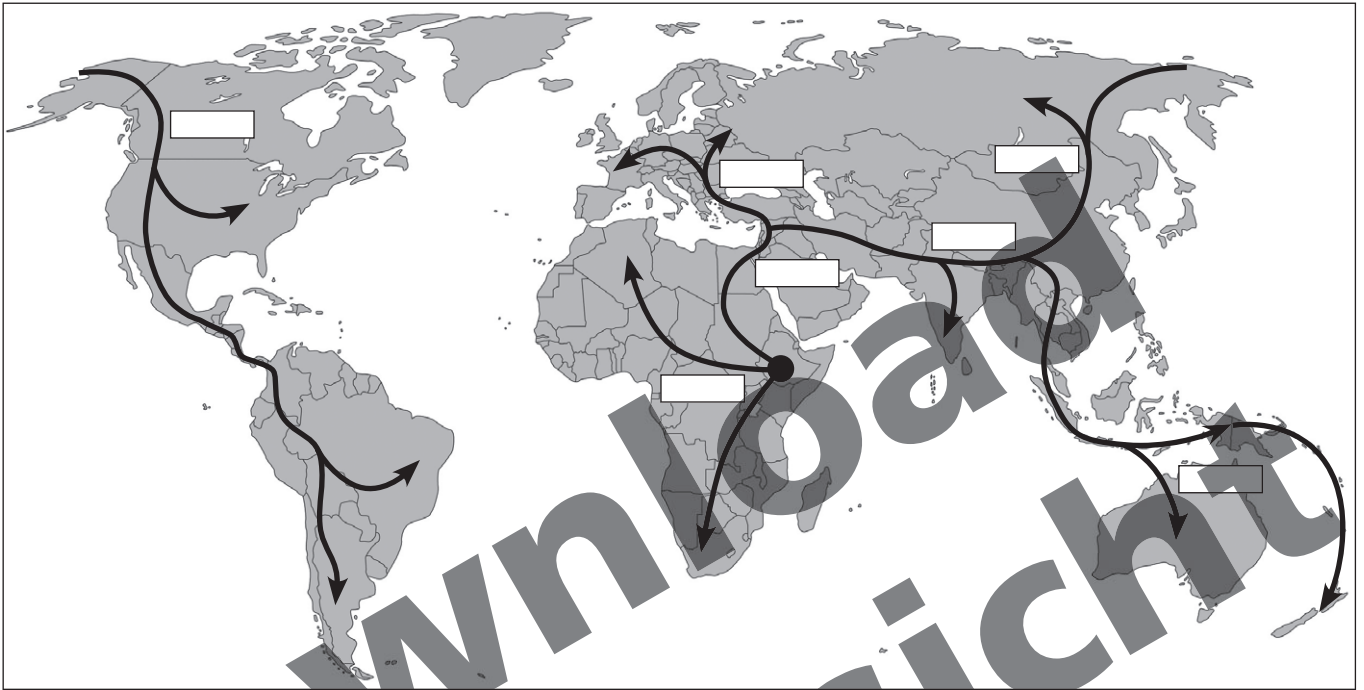
Verstöße gegen diese Lizenzbedingungen werden strafrechtlich verfolgt.

**Download
zur Ansicht**



1. Beschreibe anhand der Karte die Ausbreitung des Jetztmenschen über die Erde.

2. Lies den Text und ergänze die Jahreszahlen auf der Karte.



Die Ausbreitung des Jetztmenschen

Den Menschen der Neuzeit (*Homo sapiens sapiens*) gibt es seit etwa 150 000 Jahren. Der Jetztmensch machte viele Erfindungen, konnte sprechen und hatte religiöse Vorstellungen. Seine Ernährung bestand aus Fleisch und Pflanzen. Zunächst lebte der Jetztmensch in Ostafrika, von wo aus er Süd- und Nordafrika besiedelte. Vor 100 000 Jahren zog er zuerst nach Vorderasien und von dort aus vor ca. 60 000 Jahren weiter nach Indien und nach Europa (vor 40 000 Jahren). Eine nochmalige deutliche Erweiterung des Lebensraumes erfolgte dann vor etwa 35 000 Jahren mit der Besiedlung von ganz Sibirien. Von dort aus wurden vor etwa 15 000 Jahren Amerika und 5 000 Jahre später Australien besiedelt. Vor etwa 10 000 Jahren waren dann fast alle bewohnbaren Gebiete der Erde entdeckt und bewohnt.



Vom Leben früher Menschen



3. Nenne fünf Staaten, die im (wahrscheinlichen) Ursprungsgebiet des Menschen liegen. Arbeite mit deinem Atlas.

4. Welche heutigen europäischen Länder waren damals noch von Eis bedeckt?

5. Vergleiche die Verbreitung der Vormenschen mit der Verbreitung der Frühmenschen.

6. Nenne die Länder, in denen es Menschenfunde aus der Altsteinzeit gibt.

Berg Karmel		Gibraltar	
Kiik Koba		Krapina	
Monte Circeo		Neandertal	
Nizza		Shanidar	
Steinheim		Swanscombe	
Teshik Tash			

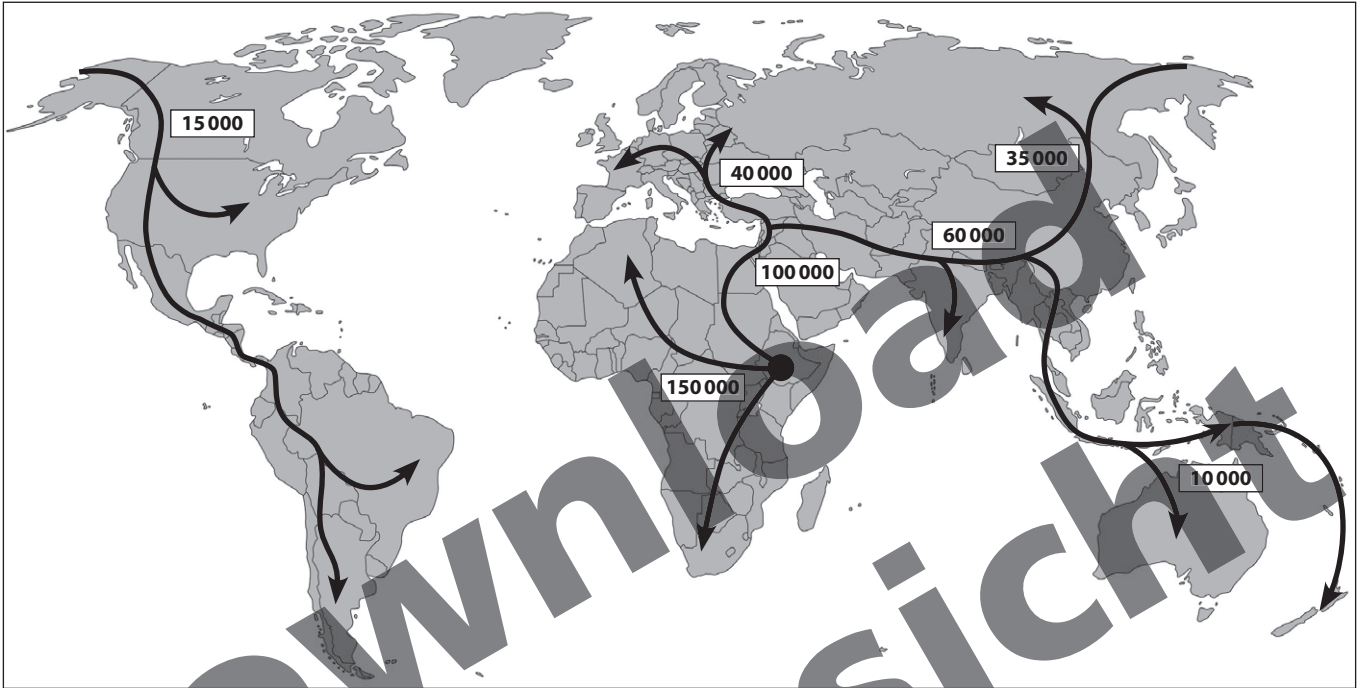


Vom Leben früher Menschen

Nr. 1

Der Jetztmensch breitete sich von Ostafrika zunächst über ganz Afrika aus. Dann zog er nach Vorderasien und von dort aus weiter nach Indien und nach Europa. Von Indien aus erfolgte die Besiedlung Sibiriens und von dort aus wurden Amerika und Australien besiedelt.

Nr. 2



Nr. 3

Im heutigen Ostafrika liegen folgende Länder: Äthiopien, Burundi, Dschibuti, Eritrea, Kenia, Komoren, Madagaskar, Malawi, Mauritius, Mayotte, Mosambik, Réunion, Ruanda, Sambia, Seychellen, Simbabwe, Somalia, Tansania und Uganda.

Nr. 4

Betroffen war vor allem das heutige Nordeuropa. Dazu gehören Belgien, Dänemark, Estland, Finnland, Großbritannien, Irland, Island, Lettland, Litauen, Niederlande, Norwegen, Schweden, der Norden Deutschlands und der Norden des europäischen Russlands.

Nr. 5

Der Vormensch lebte ausschließlich in Ostafrika. Der Frühmensch verbreitete sich auch schon nach Europa und Asien.

Nr. 6

Berg Karmel	Israel	Gibraltar	Britisches Überseegebiet
Kiik Koba	Krim, autonome Republik der Ukraine	Krapina	Kroatien
Monte Circeo	Italien	Neandertal	Deutschland
Nizza	Frankreich	Shanidar	Irak
Steinheim	Deutschland	Swanscombe	England
Teshik Tash	Usbekistan		



Weitere Downloads, E-Books und Print-Titel des umfangreichen Persen-Verlagsprogramms finden Sie unter www.persen.de

Hat Ihnen dieser Download gefallen? Dann geben Sie jetzt auf www.persen.de direkt bei dem Produkt Ihre Bewertung ab und teilen Sie anderen Kunden Ihre Erfahrungen mit.



Bildquellen

S. 14 Weltkarte © Andreas Haertle – Fotolia.com

© 2013 Persen Verlag, Hamburg
AAP Lehrerfachverlage GmbH
Alle Rechte vorbehalten.

Das Werk als Ganzes sowie in seinen Teilen unterliegt dem deutschen Urheberrecht. Der Erwerber des Werkes ist berechtigt, das Werk als Ganzes oder in seinen Teilen für den eigenen Gebrauch und den Einsatz im Unterricht zu nutzen. Die Nutzung ist nur für den genannten Zweck gestattet, nicht jedoch für einen weiteren kommerziellen Gebrauch, für die Weiterleitung an Dritte oder für die Veröffentlichung im Internet oder in Intranets. Eine über den genannten Zweck hinausgehende Nutzung bedarf in jedem Fall der vorherigen schriftlichen Zustimmung des Verlages.

Sind Internetadressen in diesem Werk angegeben, wurden diese vom Verlag sorgfältig geprüft. Da wir auf die externen Seiten weder inhaltliche noch gestalterische Einflussmöglichkeiten haben, können wir nicht garantieren, dass die Inhalte zu einem späteren Zeitpunkt noch dieselben sind wie zum Zeitpunkt der Drucklegung. Der Persen Verlag übernimmt deshalb keine Gewähr für die Aktualität und den Inhalt dieser Internetseiten oder solcher, die mit ihnen verlinkt sind, und schließt jegliche Haftung aus.

Grafik: Julia Flasche (Cover und Piktogramm)
Satz: Satzpunkt Ursula Ewert GmbH, Bayreuth

Bestellnr.: 23084DA4

www.persen.de