


Zahldarstellung (2)



① Male die Felder an.

4

1	2	3	4	5	6	7	8	9	10
11	12	13	14	15	16	17	18	19	20

10

1	2	3	4	5	6	7	8	9	10
11	12	13	14	15	16	17	18	19	20

9

1	2	3	4	5	6	7	8	9	10
11	12	13	14	15	16	17	18	19	20

20

1	2	3	4	5	6	7	8	9	10
11	12	13	14	15	16	17	18	19	20

② Male die Felder an.

3

1									10
11									20

12

1									10
11									20

7

1									10
11									20

15

1									10
11									20

③ Löse die Zahlenrätsel.

Meine Zahl ist größer als 13, aber kleiner als 15.
Wie heißt die Zahl?
Kreuze an.
 41 14 4



Meine Zahl ist kleiner als 15, aber größer als 13.
Wie heißt die Zahl?
Kreuze an.
 12 16 14



Meine Zahl liegt in der Zwanziger-Tafel unter der 7.
Wie heißt die Zahl?
Kreuze an.
 16 17 18



Meine Zahl liegt in der Zwanziger-Tafel über der 19.
Wie heißt die Zahl?
Kreuze an.
 8 9 10



Versteckte Zahlen (1)

- ① Male einen dicken Punkt in jedes Zahlenfeld.
Verwende für jede Aufgabe eine andere Farbe.
Es entstehen zwei Muster.










1	2	3	4	5	6	7	8	9	10
11	12	13	14	15	16	17	18	19	20

- a) 1, 3, 5, 7, 9, 12, 14, 16, 18, 20
b) 2, 4, 6, 8, 10, 11, 13, 15, 17, 19











1	2	3	4	5	6	7	8	9	10
11	12	13	14	15	16	17	18	19	20

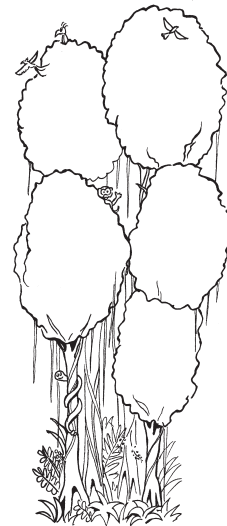
- c) 1, 2, 5, 6, 9, 10, 13, 14, 17, 18
d) 3, 4, 7, 8, 11, 12, 15, 16, 19, 20

- ② Auf welchen Zahlenfeldern sitzen die Tiere?
Trage die Zahl in die Tabelle ein.

1		3		5				9	10
11	12			15		17	18		

Lösungstabelle:



- ③ Schreibe die Nachbarzahlen auf.


- a) ___ 8 ___ ___ 4 ___ ___ 10 ___ ___ 3 ___
b) ___ 13 ___ ___ 19 ___ ___ 15 ___ ___ 11 ___
c) ___ 2 ___ ___ 16 ___ ___ 18 ___ ___ 9 ___

- ④ Male diese Zahlenfelder rot an:

1, 3, 6, 7, 8, 11, 13, 14, 17

1				5					10
11				15					20

Schreibe die drei
Buchstaben auf.



Versteckte Zahlen (2)

① Überprüfe die Aussagen. Kreuze an.

	wahr	falsch
Der Vorgänger der Zahl 19 heißt 17 .		
In der Zwanziger-Tafel gibt es dreistellige Zahlen.		
Die Zahlen 11 und 13 haben eine gemeinsame Nachbarzahl.		
Es gibt drei Zahlen in der Zwanziger-Tafel, in denen die 0 vorkommt.		
Wenn du die Zahlen in der oberen Reihe der Zwanziger-Tafel addierst (zusammenzählst), erhältst du 55 .		

② Auf welchen Zahlenfeldern sitzen die Raupen? Schreibe die Zahlen auf.

1									10
11									20

1									10
11									20

③ Male eine Raupe in die Zwanziger-Tafel.

a) 4, 5, 16, 17, 18, 8, 9, 10

b) 3, 13, 14, 5, 6, 7, 18, 19

④ Ergänze die Zahlen in den grauen Feldern.

a)

b)

Vergleiche die Zahlen in der oberen Reihe mit den Zahlen in der Reihe darunter. Was fällt dir auf? Sprich mit einem anderen Kind darüber.



Wege in der Zwanziger-Tafel



① Welches Tier besucht der Affe?
Markiere den Weg und male das richtige Tier an.

a)

1									10
11									20

12, 13, 14, 4, 5, 6, 16, 17, 18, 19

b)

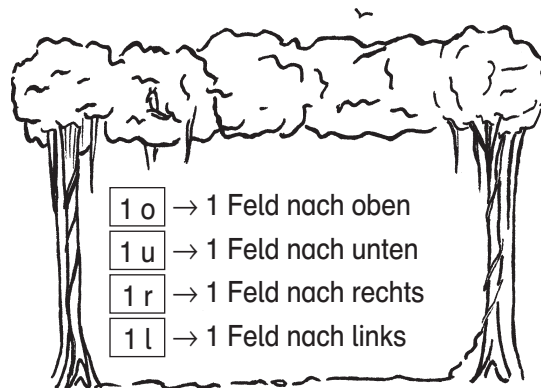
1									10
11									20

4, 5, 6, 16, 15, 14, 13, 3, 2

② Folge dem Weg. Schreibe die Zahl auf und male das Zahlenfeld grün an.

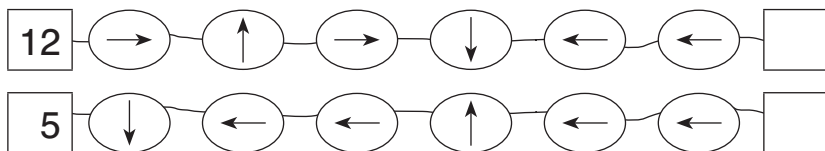
1									10
11									20

- 13 → 1 o 4 r 1 u 1 l _____
- 10 → 5 l 1 u 2 r 1 o _____
- 17 → 2 r 1 o 8 l 1 u _____
- 5 → 5 r 1 u 4 l 1 o _____
- 8 → 1 u 2 l 1 o 5 l _____



③ Finde die Zahl. Der Pfeil gibt dir den Weg an.
Male das Ergebnis in der Zwanziger-Tafel an.

1									10
11									20



④ Finde den Weg. Zeichne die Pfeile ein.

