

- 4 Wird hier gegen das JArbSchG verstoßen? Begründe deine Aussage anhand der entsprechenden Paragraphen.




a) Der 15-jährige Patrick arbeitet während des Praktikums im Lager eines großen Versandhandels. Seine Aufgabe ist es, gemeinsam mit den Kollegen die ankommenden Bestellungen aus den Regalen zu nehmen und zum Versand zu tragen. Eben ist ein neuer Auftrag hereingekommen. Ein Kunde hat einen großen und schweren Grill bestellt. Ein sehr muskulöser Kollege, Herr Kohlmann, sagt zu Patrick: „Na Kleiner, du weißt ja, wo du den Grill findest! Das wirst du ja wohl allein schaffen. Die 70 Kilogramm sind ja wohl ein Klacks!“ Patrick geht an den Lagerplatz und schleppt den Grill zum Versand. Danach klagt er über starke Rücken- und Beinschmerzen.



b) Die 14-jährige Tina macht ein Praktikum in der EDV-Abteilung einer großen Versicherung. Sie hat von ihrem Betreuer den Auftrag bekommen, Kundendaten in den Computer einzugeben. Mittlerweile ist es 13.30 Uhr und Tina sitzt bereits seit 7.30 Uhr ohne Pause am Computer. Sie hat Kopfschmerzen, Hunger und ihre Augen brennen. Sie möchte gern in die Kantine, um sich ein belegtes Brötchen zu holen. Als sie aufsteht, ruft ihr Betreuer: „Bist du schon fertig? Die Sachen müssen bis 14.30 Uhr fertig sein. Danach kannst du eine Pause machen!“



- 5 Was bedeuten die Schilder und zu welchem Schildertyp gehören sie?







Name: _____ Datum: _____



- 5 Es gibt verschiedene Möglichkeiten, sein Geld zu sparen oder anzulegen.
a) Ordne die drei Spar- /Anlageformen richtig zu.

	Sparformen		Vor- und Nachteile der Sparformen
①	Sparbuch		hohen Gewinn erzielen, aber größtes Risiko
②	Aktien		hohe Zinsen, aber anlegen für einen längeren Zeitraum
③	Sparbrief		sichere Geldanlage, aber wenig Zinsen

- b) Welcher Spar-/Anlageform lassen sich die Begriffe Fonds und Kurs zuordnen?

- 6 a) Markus verdient im Monat 1000 €. Davon zahlt er monatlich insgesamt 30 % an Steuern, Sozialabgaben und Krankenversicherung. Berechne wie viel Geld ihm zum Leben bleibt, wenn er von seinem Gehalt noch 250 € auf sein Sparkonto legen möchte.

Rechnung: _____

- b) Was sind die 1000 €? _____

- c) Wie bezeichnet man das Geld, das Markus nach den monatlichen Abzügen noch bleibt?

- 7 Auf der Rechnung einer Buchsendung steht, dass man 2 % Skonto vom Rechnungsbetrag abziehen darf, wenn man innerhalb von zwei Wochen den Betrag überweist. Der Kunde bezahlt seine Rechnung von 35,65 € nach zwei Tagen. Welchen Geldbetrag muss er auf dem Überweisungsträger eintragen? Runde das Ergebnis auf zwei Stellen hinter dem Komma.

Rechnung: _____

- 8 Welche Zahlungsmethode ist aus Kostengründen am besten? Kreuze an.

- a) Gina hat einen Handyvertrag. Sie ist glücklich, denn in diesem Monat hat sie für fast 5 € weniger telefoniert als in den zwei Monaten davor.

① Kreditkarte ② Dauerauftrag ③ Lastschrift

- b) Nathalie spendet jeden Monat das restliche Geld ihres Taschengeldes für eine Behindertenwerkstatt.

① Barzahlung ② Überweisung ③ Dauerauftrag

Name: _____ Datum: _____

1 Beantworte die folgenden Fragen.

a) Wie werden Einzelhandelsgeschäfte bezeichnet, die ein ausgewähltes Warensortiment zu niedrigen Preisen anbieten? Die Warenpräsentation ist sehr einfach.

□ □


b) Wie heißt ein kleines Lebensmittelgeschäft, in dem man meist persönlich von dem Ladenbesitzer bedient wird? Es gibt sie heute kaum noch.


□ □

c) Worin unterscheidet sich ein Biosupermarkt von einem gewöhnlichen Supermarkt?

□ □

2 a) Gegenüberstellung von Supermarkt und Markt. Nenne je zwei Vor- und Nachteile für die verschiedenen Einkaufsorte.

Supermarkt	Vorteile	Nachteile
	_____	_____
	_____	_____
	_____	_____
	_____	_____
	_____	_____
	_____	_____

Markt	Vorteile	Nachteile
	_____	_____
	_____	_____
	_____	_____
	_____	_____
	_____	_____
	_____	_____

□ □

b) Was ist für viele Menschen das entscheidende Kaufkriterium ?

□ □

Name: _____ Datum: _____