




Aufgaben

In einem Geschäft für Aquarien finden sich folgende Angebote:



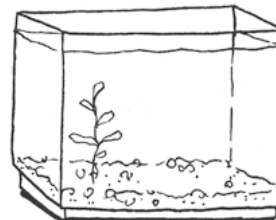
4 €



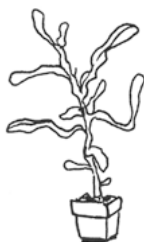
14 €




35 €



447 €



5 €



86 €



7 €

1. Petra hat folgende Dinge gekauft (siehe Tabelle). Bestimme den Endpreis.

Name	Anzahl	Preis in €
Aquarium	1	447
Pumpe	1	86
Goldfische	10	40
Futter	1	14
Wasserpflanzen	4	20
Gesamtpreis:		

2. Yannik möchte 1 Aquarium, 7 Goldfische, 3 Koifische, 7 Wasserpflanzen und eine Pumpe kaufen. Lege eine Tabelle wie oben im Heft an und bestimme den Endpreis.

3. Erik hat insgesamt 507 € im Geschäft bezahlt. Was könnte er gekauft haben? Schreibe mindestens zwei verschiedene Möglichkeiten auf.
