

## Welche Malaufgabe sieht du? Kreise ein!

\_\_\_\_\_

\_\_\_\_\_

\_\_\_\_\_

\_\_\_\_\_


\_\_\_\_\_

\_\_\_\_\_

Name:

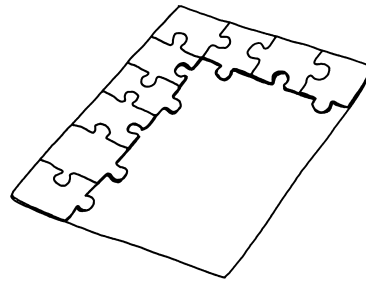
Klasse:

Datum:




Wie viele Fächer?

\_\_\_\_\_




Wie viele Teile hat das fertige Puzzle?

\_\_\_\_\_



Wie viele Schokoriegel?


\_\_\_\_\_



Wie viele Stifte?

\_\_\_\_\_

### Teilen



5 Kinder

Jedes bekommt

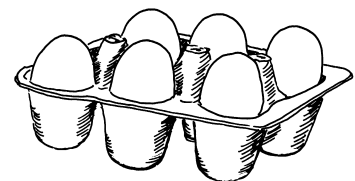
\_\_\_\_\_ Kaugummis.



9 Kinder

Jedes bekommt

\_\_\_\_\_ Stücke.



18 Eier in

6er-Schachteln

Wie viele Schachteln?

\_\_\_\_\_

Name:

Klasse:

Datum: