


# AUFGABENKARTEN – Tabellen erstellen

## Aufgabe 1

Zählen 125

Susanne und Maria gehen beide jede Woche zum Turnen. Susanne geht alle 3 Tage, Maria dagegen jeden 4. Tag. Wenn sie beide am Montag da waren, wann treffen sie sich das nächste Mal wieder?




Level 1

## Aufgabe 2

Zählen 125

18 Leute saßen in der Achterbahn. Auf 2 besetzte Plätze kam jeweils 1 leerer. Wie viele Plätze waren leer?




Level 1

## Aufgabe 3

Zählen 125

Manu pflückt als Ferienjob Äpfel. Ihr Arbeitgeber gibt ihr 1 Cent für den ersten Baum, den sie abgeerntet hat, 2 Cent für den zweiten, 4 Cent für den dritten und 8 Cent für den vierten. Wie viel bekommt sie für den achten Baum, den sie aberntet? Wie viel verdient sie insgesamt, wenn sie acht Bäume aberntet?



Level 1